

Exercice 1 : L'organisation du territoire Bourguignon.

Niveau : 3^e	Programme :	Compétences SOCLE COMMUN C5.1/C5.2/C5.3
Capacité :	Localiser et situer les repères spatiaux de la Région étudiée. Réaliser un croquis de l'organisation du territoire régional.	
Je suis capable de	<ul style="list-style-type: none"> ● Situer un lieu, un territoire en rapport à d'autres espaces. ● Croiser différents documents en confrontant les informations. 	
Pré requis :	Situer Paris – Lyon – Massif Central – Alsace – Lorraine – Méditerranée- les 3 types de signes – Autoroute A77	

Le couloir métropolitain.

« Le couloir est dessiné par le fossé de la vallée de la Saône entre les deux (...) failles de la bordure du Jura à l'est et des côtes viticoles à l'ouest. Entre les deux s'étend une vaste plaine, à 170 mètres environ d'altitude, de climat semi-continental, avec de bons terroirs pour l'agriculture et l'élevage, sauf dans la partie inondable du fleuve. La richesse du vignoble se trouve complété par les exploitations céréalières de la plaine et, au sud sur des sols argilo-marneux, par les élevages de la Bresse.

(...)

. L'autre Bourgogne.

Il s'agit (...) d'une zone (...) avec des peuplements inférieurs à 20 ou même 10 habitants par kilomètre carré, une Bourgogne rurale et dépeuplée qui fait pont entre les hautes terres du Sud de la Champagne et de la Lorraine et celle du Massif Central, du même type. (...) Cinq grandes traditions agricoles se partagent les différents types de terroirs.(...) Les bois presque partout présents, en extension. La céréaliculture des plateaux calcaires,[L'Yonne et Châtillonnais] (...) en développement, dans le prolongement des plus riches terres du Bassin de Paris. L'élevage des bovins à viande (...) autour du Morvan et du Nivernais fait partie de la grande aire de l'élevage Charolais (...).Des vignobles enfin (...) : vignobles discrets des bords de Loire autour de Pouilly ; superbe vignobles de Chablis, producteurs de vins blancs, entre Auxerre et Tonnerre.

Aide :

3 régions à découvrir.

Mais c'est surtout un chapelet de villes marchandes et industrielles qui matérialise la vitalité du couloir de la Saône, toutes situées à l'ouest du fossé, au contact plus ou moins étroit de la rivière et de la côte : Dijon bien entendu (151 000 habitants pour une agglomération de 238 000 habitants), mais aussi Beaune (23 000 habitants), Chalon-sur-Saône (52 000 habitants, une agglomération de 73 000 habitants), Tournus (6 700habitants), Macon (36 000 habitants), chef-lieu du département de la Saône et Loire (...)

Du point de vue (...) urbain la Bourgogne intérieure peut se subdiviser en trois parties d'une vitalité inégale. Vide ou à-peu-près, dans le Morvan ou sur les plateaux calcaires du nord, avec de petites villes comme Avallon, Clamecy ou Château-Chinon. Un certain isolement en bordure de la Loire nivernaise Nevers, chef-lieu de la Nièvre compte 43 000 habitants dans une agglomération de 55 000 personnes. Enfin, une certaine vitalité au nord-ouest de l'Yonne, autour d'Auxerre (40 000 habitants), de Joigny (11 000 habitants), de Sens (28 000 habitants) (...)

L'Yonne gagne ainsi presque autant de population entre les deux derniers recensements que le département de la Côte d'Or, alors que plus marginalisé, celui de la Nièvre en perd ».

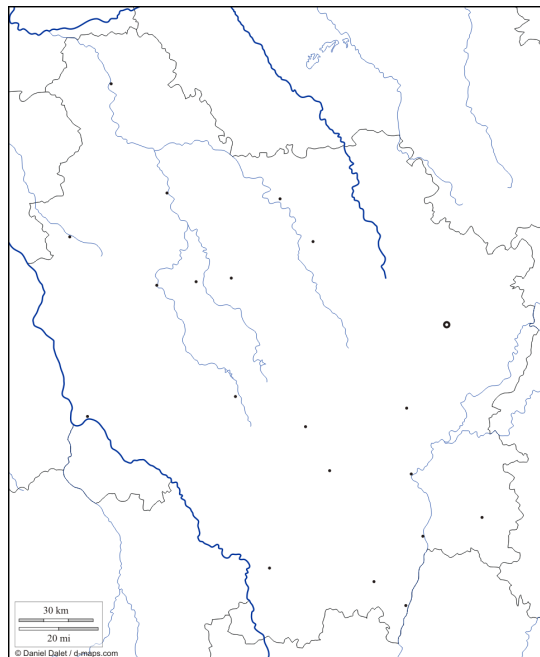
Aide :

montrer deux espaces très différents

montrer les différences de tailles des villes

montrer les dynamiques démographiques selon les départements.

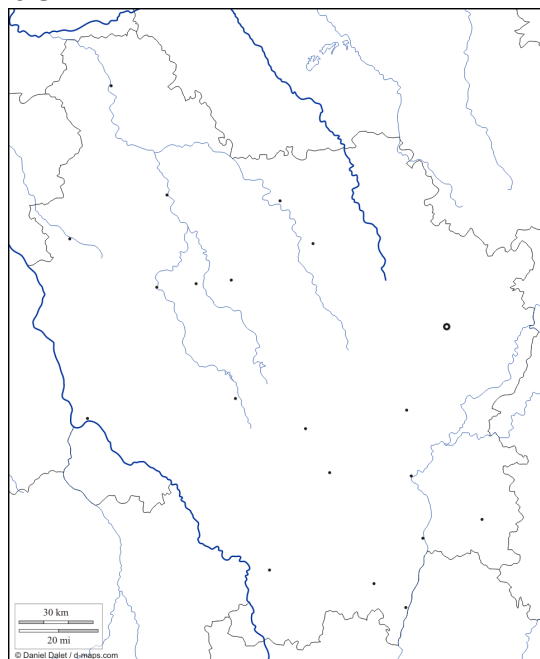
Titre :



Légende :

-
-
-

Titre :

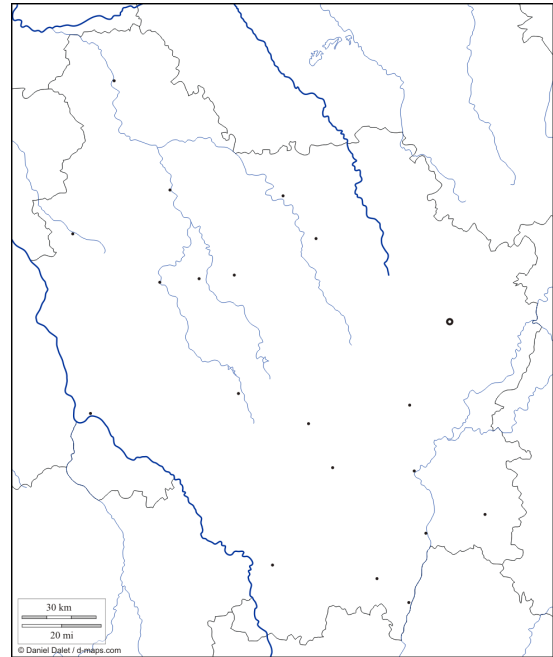


Légende :

-
-
-
-

Le carrefour principal s'est fixé à Dijon, du fait de sa position au nord du couloir, mais aussi des circonstances historiques et administratives qui ont fait de cette ville la capitale des ducs de Bourgogne puis le chef-lieu de la Côte d'Or et la capitale régionale. C'est donc vers Dijon que se forme une sorte d'entonnoir d'autoroutes et de voies ferrées, y compris de lignes de TGV, en provenance de Paris, de la Lorraine, de l'Alsace et de la Suisse, et se dirigeant vers le sud, par le couloir, en direction de Lyon et de la Méditerranée.
 [A cela il faut ajouter l'axe autoroutier Paris, Clermont Ferrand, passant le long de la Bourgogne ouest.]

Titre :



Légende :

-
-

Mais c'est surtout un chapelet de villes marchandes et industrielles qui matérialise la vitalité du couloir de la Saône, toutes situées à l'ouest du fossé, au contact plus ou moins étroit de la rivière et de la côte (...)

Titre :

Cette position a permis de promouvoir Dijon depuis le XIXe siècle et surtout dans les années 1960 au rang de grande ville tertiaire et industrielle. » (...)

Au sud-ouest,...) de même qu'Autun (...) ont été des pays industriels du XIXe siècle, sous l'empire des Schneider, avec des houillères et une puissante industrie métallurgique spécialisée dans l'équipement lourd et l'armement. Actuellement en fin de reconversion, ces bassins, autour du Creusot (26 800 habitants) et de Montceau-les-Mines, affichent des taux de chômage sensiblement plus élevés que ceux des villes de la plaine.(...)

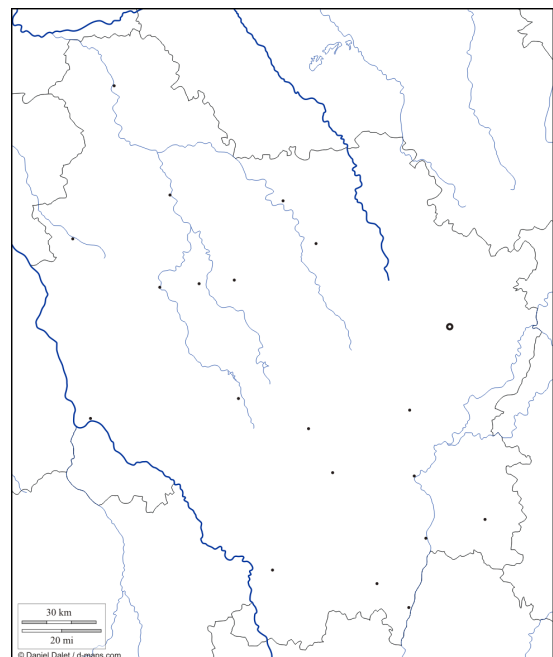
(...) Une autre tradition caractérise la Bourgogne intérieure, celle d'une vieille industrie métallurgique dans le prolongement de la Champagne, de la Lorraine et du Berry...Forte jadis dans le Châtillonnais et le Nivernais, elle a été peu à peu décimée (...) il n'en reste que des séquelles dans le Nivernais à Imphy ou dans le Châtillonnais à Montbard où Vallourec fabrique des aciers spéciaux et bénéficie d'une halte du TGV. (...)

La partie ouest du département de l'Yonne appartient maintenant aux franges extérieures de l'Île-de-France. Elle bénéficie d'une économie résidentielle et de petites industries qui s'appuient sur la proximité de Paris et de l'Île-de-France. (...)

Légende :

Aide :

chaque paragraphe = une idée = un signe



Consignes.

- 1- Lire le texte : souligner les informations en rouge et les lieux associés en bleu. (Lire les aides.)
- 2- Choisir des signes pour les informations puis compléter le croquis ; construire la légende en deux parties : Carrefour et pôle et Des espaces différenciés.
- 3- Indiquer par le nom et un signe l'influence des régions qui attirent des espaces Bourguignons.
- 4- Quelles sont vos conclusions ?