

Les Etats-Unis dans la mondialisation (2)

Quelles sont les conséquences de la mondialisation sur l'organisation du territoire américain ?

A partir des cartes indiquées, répondez aux différentes questions et réalisez des croquis schématisés qui rendront compte de l'organisation du territoire américain.

Pour ces croquis, vous utiliserez les symboles de la « boîte à outil » que vous pouvez soit copier/coller, soit redessiner avec les outils de dessin de Publisher. Ces symboles peuvent être modifiés (agrandis ou rétrécis, orientation changée, couleurs changées).

Pour chaque croquis, vous devez créer ou compléter la légende.

Enregistrez régulièrement votre travail

Métropoles mondiales et centre décisionnel (carte 1 p. 312)

1/ Quelles sont les 5 « métropoles mondiales » ?

2/ Comment s'appelle le grand centre décisionnel du Nord-Est ?



LEGENDE

..... Métropoles mondiales




.....

Industries de haute technologie (carte 11p. 314)

1/ Quelles sont les 4 régions à forte concentration d'industries de haute technologie?

2/ Relevez le nom de 2 très importants technopôles:




LEGENDE



Grands ports et échanges commerciaux (carte 4 p. 317)

1/ Quelles sont les 4 principaux ports américains ?

2/ Pourquoi peut-on dire qu'ils permettent l'ouverture sur le monde du territoire américain?



LEGENDE



.....

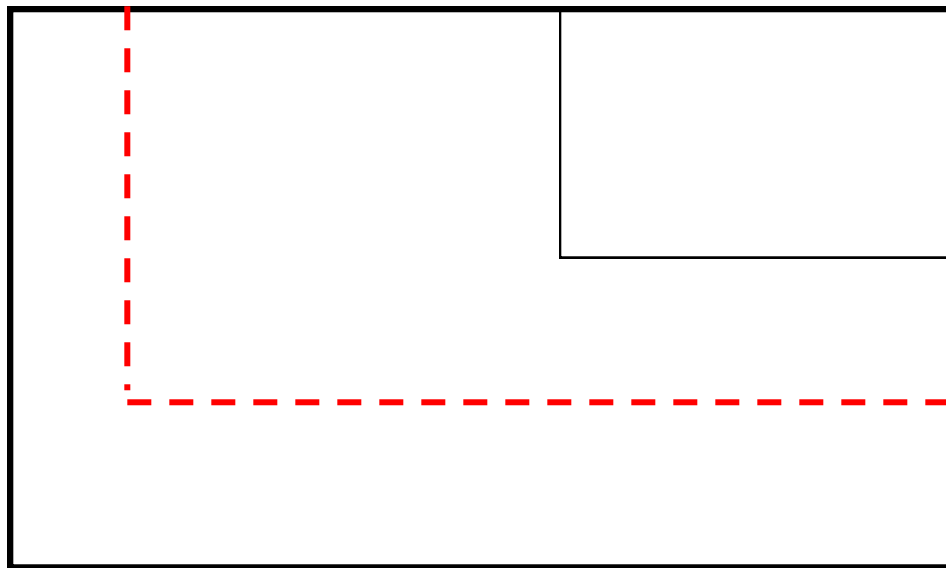
.....

Régions attractives et régions « répulsives »: les dynamiques du peuplement (carte 1 p. 318)

Quelles sont les 3 régions qui attirent le plus de migrants intérieurs?

D'après la carte 2 quel nom donne-t-on à cet espace attractif?

Quel phénomène vient renforcer le peuplement des régions littorales du sud et de l'ouest?



LEGENDE



..... Régions attractives

..... Régions « répulsives »

..... Flux migratoires internes

..... Immigration

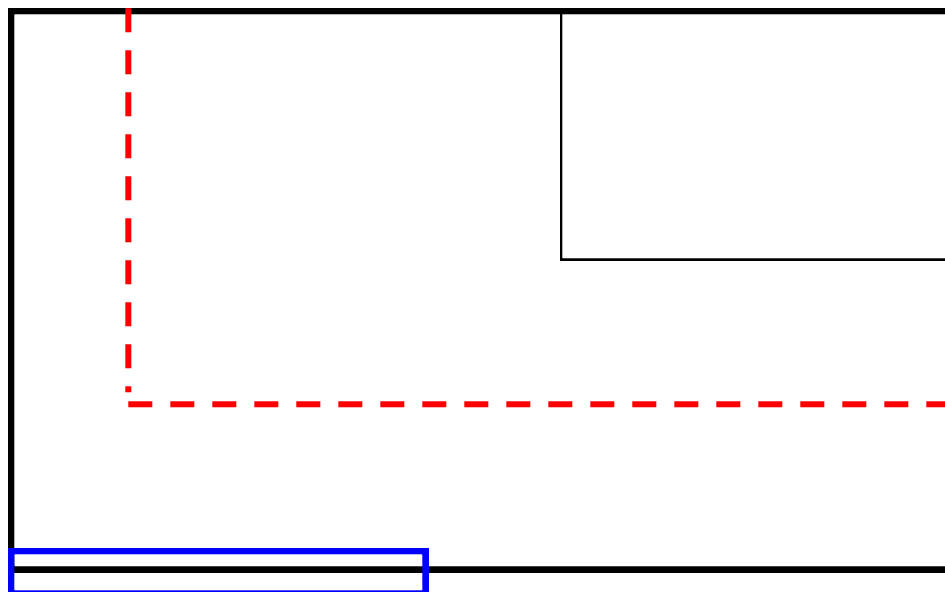
Régions industrielles et délocalisations (carte 2 p. 318)

1/ Comment s'appelle la plus ancienne région industrielle américaine?

2/ Qu'est-ce qui montre que cet espace connaît un déclin industriel relatif? (2 réponses)

3/ Pourquoi la Sun Belt est qualifiée d'espace industriel « dynamique » (2 réponses)

4/ Pourquoi la frontière américano-mexicaine peut elle être intégrée à l'espace industriel américain?



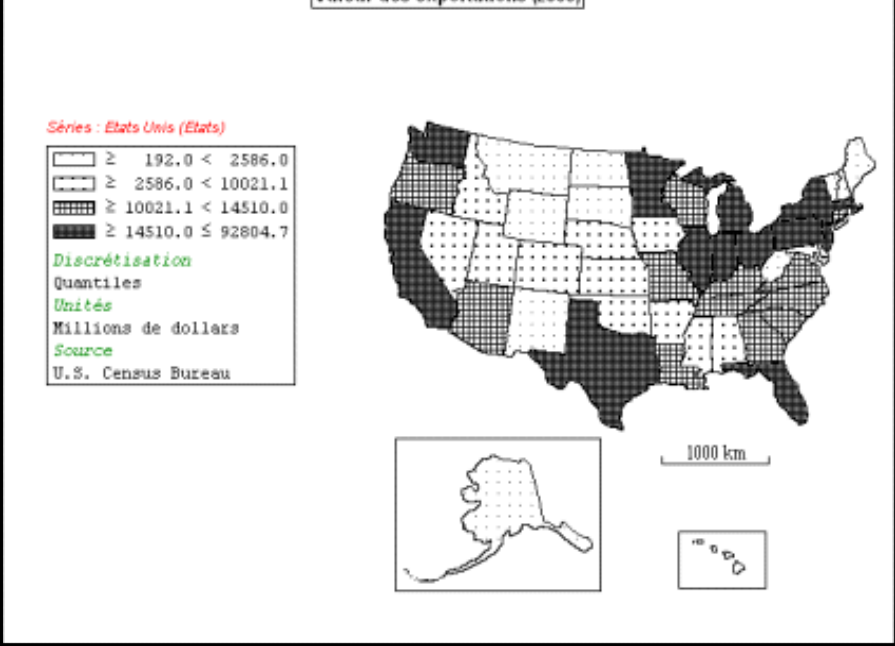
LEGENDE

..... Manufacturing Belt

..... Régions industrielles dynamiques de la Sun Belt

←

.....




Valeur des exportations (Carte ci-dessus)

1/ Quelles régions réalisent les plus importantes exportations (en valeur)?

2/ D'après vos observations sur les cartes précédentes, expliquez cette situation en utilisant 2 arguments distincts.

LEGENDE



Régions.....



Régions

Mise en relation des phénomènes.

1/ Quels croquis peuvent être associés? (par 2 ou 3...) Justifiez vos réponses.

+ *(titre des croquis puis justification)*


+*(titre des croquis puis justification)*

+*(titre des croquis puis justification)*

2/ Réalisez ci-dessous le (ou les) croquis résultant(s) de cette association.

(pour gagner du temps, vous pouvez utiliser la fonction « maj + clic » (pour sélectionner les différents éléments à reproduire) puis « copier » / « coller »


NB: Si vous réalisez plusieurs croquis d'association, insérez des pages supplémentaires après celle-ci (menu « insertion/ page... »)



LEGENDE

Croquis de synthèse: le territoire américain dans la mondialisation

En vous appuyant sur la démarche proposée p 319 dont vous respecterez les rubriques de la légende, réalisez le schéma de synthèse en utilisant obligatoirement les symboles et couleurs que vous avez utilisés pour vos différents croquis.



1: les espaces d'une puissance mondiale

2: un territoire intégré à la mondialisation